





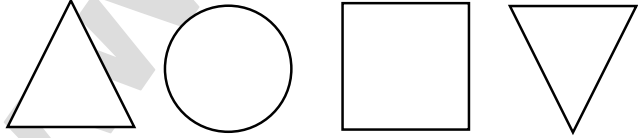



باسمه تعالی

ارزشیابی درس ریاضی نوبت دوم پایه اول آموزشگاه
 نام و نام خانوادگی: نام پدر: تاریخ امتحان: ۱۳۸۳/۳/۲ مدت پاسخگویی ۶۰ دقیقه سال تحصیلی ۸۳-۱۳۸۲

۰/۵		بال سمت چپ پرنده را رنگ بزن.	۱					
۱	<div style="display: flex; justify-content: space-around; align-items: center;"> <div style="border: 1px solid black; border-radius: 15px; padding: 5px; margin: 5px;">۷ ۹</div> <div style="border: 1px solid black; border-radius: 15px; padding: 5px; margin: 5px;">۴ ۴</div> <div style="border: 1px solid black; border-radius: 15px; padding: 5px; margin: 5px;">۸ ۶</div> <div style="border: 1px solid black; border-radius: 15px; padding: 5px; margin: 5px;">۵ ۳</div> </div>	بین دو عدد داخل خانه علامت \Rightarrow را که مناسب است بگذار.	۲					
۱/۵	<div style="display: flex; justify-content: space-around; align-items: center;">   </div> <p>..... + =</p> <p>..... + =</p>	برای شکل روبه رو دو جمع بنویس.	۳					
۱/۵	$۷+۲=$ ۲ ۷ $۳-۳=$ $۵+۳=$ <u>+۴</u> <u>-۵</u> $۸-۰=$	جمع و تفریق‌های زیر را انجام دهید.	۴					
۱/۵	<div style="display: flex; align-items: center; justify-content: center;"> <div style="border: 1px solid black; padding: 5px; margin: 5px;">۱۰</div> <div style="border: 1px solid black; padding: 5px; margin: 5px;">۱۰</div> <div style="margin: 0 10px;"> </div> <div style="border: 1px solid black; padding: 5px; margin: 5px;"> ده تایی یکی </div> </div> <div style="margin-top: 10px;"> با جاهای خالی عدد مناسب بنویس. با رقم با حروف </div>		۵					
۱	<table border="1" style="margin-left: auto; margin-right: auto; text-align: center;"> <tr><td>۷</td></tr> <tr><td>۷+.....</td></tr> <tr><td>.....+۳</td></tr> <tr><td>۲+.....</td></tr> <tr><td>.....+۶</td></tr> </table>	۷	۷+.....+۳	۲+.....+۶	با توجه به عدد بالای ستون در جای خالی عدد مناسب بنویس.	۶
۷								
۷+.....								
.....+۳								
۲+.....								
.....+۶								
۱	<table border="1" style="margin-left: auto; margin-right: auto;"> <tr> <td style="width: 30px; height: 20px;"></td> <td style="width: 30px; height: 20px;"></td> <td style="width: 30px; height: 20px; text-align: center;">۸</td> <td style="width: 30px; height: 20px;"></td> <td style="width: 30px; height: 20px;"></td> </tr> </table>			۸			عددهای قبل و بعد عدد نوشته شده را بنویس.	۷
		۸						
۱	<div style="display: flex; justify-content: center; gap: 20px;"> <div style="border: 1px solid black; border-radius: 50%; width: 60px; height: 60px; display: flex; align-items: center; justify-content: center;">۲۰ ریال</div> <div style="border: 1px solid black; border-radius: 50%; width: 60px; height: 60px; display: flex; align-items: center; justify-content: center;">۵۰ ریال</div> <div style="border: 1px solid black; border-radius: 50%; width: 60px; height: 60px; display: flex; align-items: center; justify-content: center;">۲ ریال</div> </div>	پول‌ها چند ریال است؟	۸					

۱/۵	<table border="1"> <tr> <td>۶۰</td> <td></td> <td></td> <td></td> <td></td> <td></td> <td></td> </tr> </table>	۶۰							دنباله عدد نوشته شده را بنویس.	۹	
۶۰											
۱/۵		<p>۵ گل روی میز بود. ۳ گل را برداشتیم. چند گل روی میز است؟</p>	۱۰								
۱/۲۵	<p>..... ۵۵ تایی می شود ۱۹ می شود ۵۵ تایی یکی ۲۰ می شود ۵۵ تایی.</p>	<p>در جای خالی عدد مناسب بنویس. ۱۱ ۵۵ تایی و ۷ یکی می شود ۵۵ تایی یکی ۲۰ می شود ۵۵ تایی.</p>	۱۱								
۱		کوتاهترین گل را رنگ بزن و گلی بکش که بلندترین باشد.	۱۲								
۱/۵		<p>علی ۶ مداد داشت. خواهرش آزاده ۲ مداد دیگر به او داد. حالا علی چند مداد دارد؟</p>	۱۳								
۱	<table border="1"> <tr> <td></td> <td></td> <td>سی و هفت</td> <td>شصت و سه</td> </tr> <tr> <td>۸۰</td> <td>۱۲</td> <td></td> <td></td> </tr> </table>			سی و هفت	شصت و سه	۸۰	۱۲			با حروف یا رقم بنویس.	۱۴
		سی و هفت	شصت و سه								
۸۰	۱۲										
۱/۵	 <p>..... - =</p>	برای شکل روبرو یک تفریق بنویس.	۱۵								
۱		<p>در جای خالی کلمات مناسب سنگین تر و سبک تر بنویس. گاو از گربه است. گربه از گاو است.</p>	۱۶								
۰/۵		مثلث‌ها را رنگ بزن.	۱۷								
۰/۲۵		خط راست را پر رنگ کن.	۱۸								
۲۰	موفق باشید.	نمره:	نام و نام خانوادگی آموزگار:								